

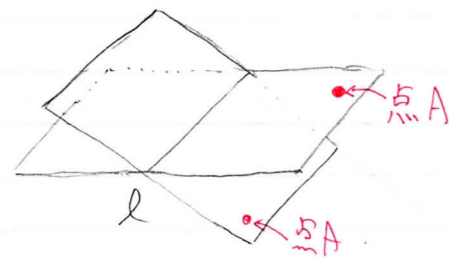
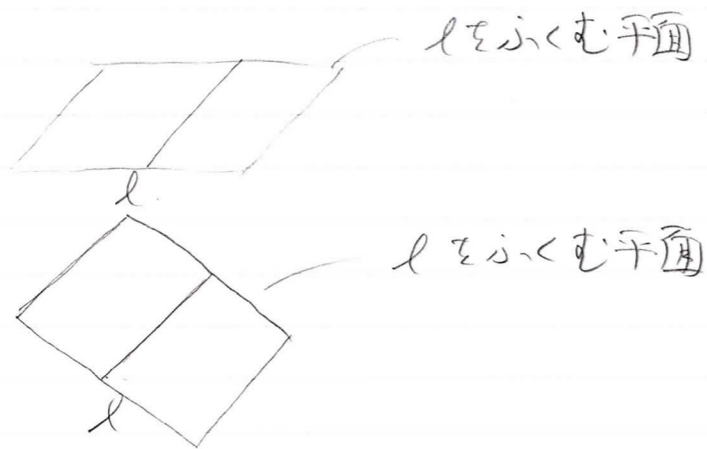
● 例題 3 平面の決定

教科書 p.172

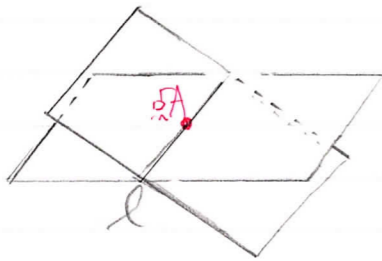
空間内で、直線 l と点 A をふくむ平面が1つしかないのは、直線 l と点 A がどのような位置関係にあるときですか。

How 覚えてよう!

直線 l を含む平面



点 A が l 上 \notin と、
平面が1つもある



A, 点 A が l 上にならぬとき