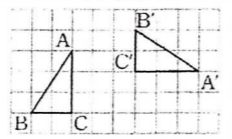


●例題4 移動を組み合わせて重ね合わせる図形

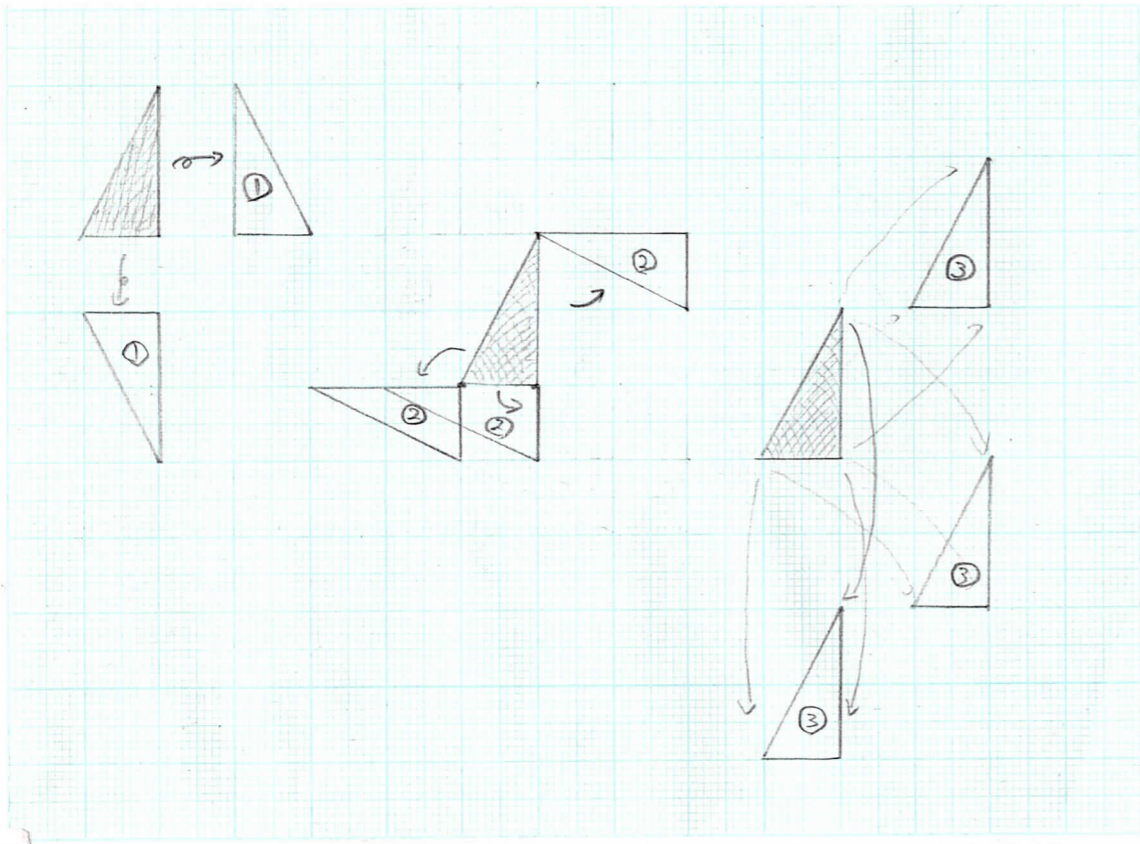
教科書p.146

右の図の△ABCを△A'B'C'に重ね合わせるには、どのように移動させればよいですか。



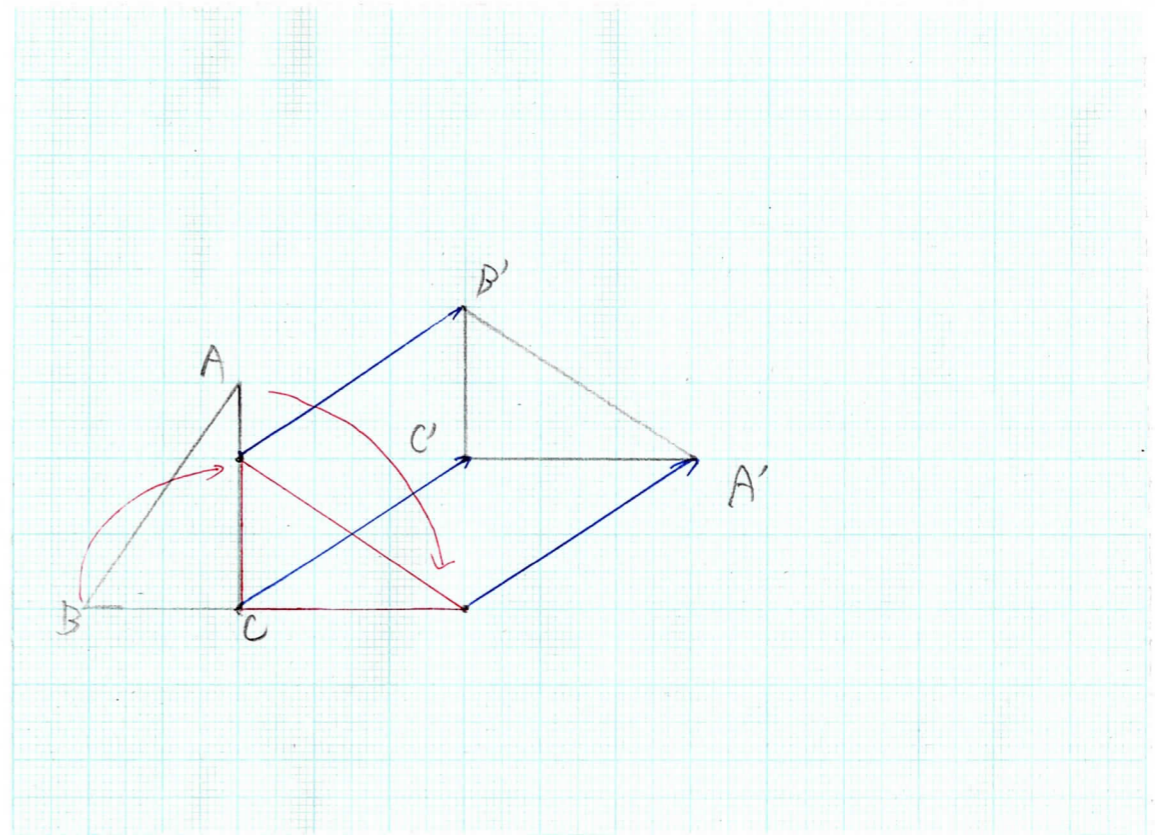
flow

- ① 裏表を合わせる ⇒ 対称移動
- ② 角度(向き)を合わせる ⇒ 回転移動
- ③ 重ね合わせる ⇒ 平行移動



① 裏表を合わせる
 ② 角度(向き)を合わせる
 ③ 重ね合わせる

- 対称移動
- 回転移動
- 平行移動



裏表は...合ってる → 対称移動はしない
 向きは...合ってる → 回転移動はする
 重ねるは...合ってる → 平行移動はする