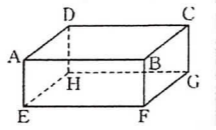


● 例題 7 直線と平面の垂直

右の図は直方体です。次の問いに答えなさい。

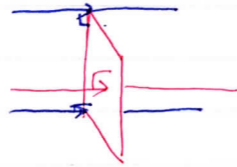
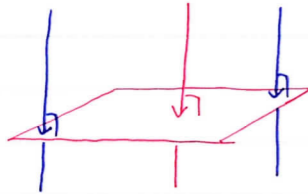
- (1) 辺BFと垂直な面はどれですか。
- (2) 面AEHDと垂直な辺はどれですか。

教科書 p.176



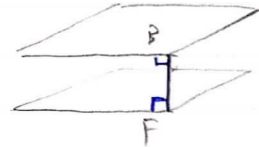
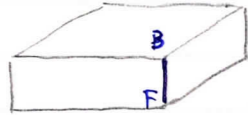
How

辺と面の垂直. "イメージ".  
 面に垂直にぶつかっている イメージ



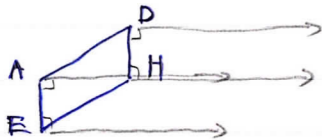
面のどこでも同じ

(1)



A. 面ABCD, 面EFGH

(2)



A. 辺AB, 辺EF, 辺HG, 辺DC